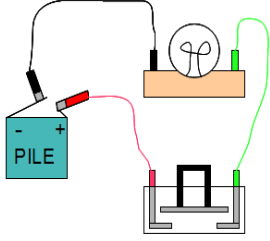
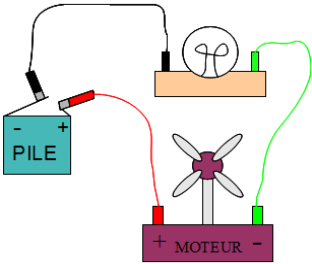
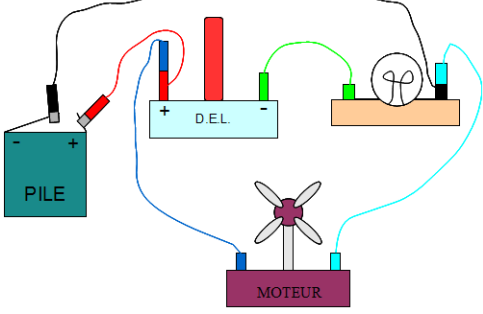
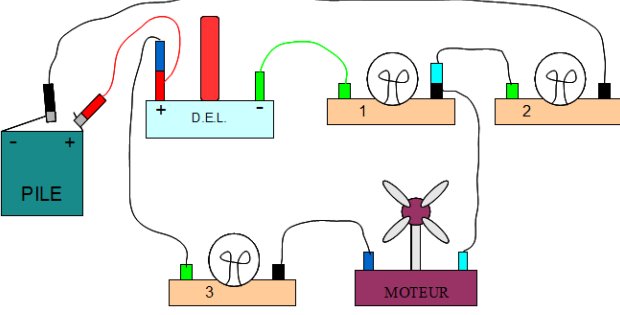


Fiche d'exercices : LES CIRCUITS ÉLECTRIQUES

1. Schématisez le montage correspondant à chacun des dessins ci-dessous.
2. a. Si le circuit est ouvert, tracez une croix à l'endroit où il l'est.
2. b. Si le circuit est fermé, indiquez par des flèches le parcours du courant (sens conventionnel).

	
Dessin 1 : Le circuit est	Schéma 1
	
Dessin 2 : Le circuit est	Schéma 2
	
Dessin 3 : Le circuit est	Schéma 3
	
Dessin 4 : Le circuit est	Schéma 4